

수학 영역

홀수형

성명

수험 번호

- 문제지의 해당란에 성명과 수험 번호를 정확히 쓰시오.
- 답안지의 필적 확인란에 다음의 문구를 정자로 기재하시오.

너는 내가 읽은 가장 아름다운 구절이다

- 답안지의 해당란에 성명과 수험 번호를 쓰고, 또 수험 번호, 문형(홀수/짝수), 답을 정확히 표시하시오.
- 단답형 답의 숫자에 '0'이 포함되면 그 '0'도 답란에 반드시 표시하시오.
- 문항에 따라 배점이 다르니, 각 물음의 끝에 표시된 배점을 참고하시오. 배점은 2점, 3점 또는 4점입니다.
- 계산은 문제지의 여백을 활용하시오.

※ 공통과목 및 자신이 선택한 과목의 문제지를 확인하고, 답을 정확히 표시하시오.

- **공통과목** 1~8쪽
- **선택과목**
 - 확률과 통계 9~12쪽
 - 미적분 13~16쪽
 - 기하 17~20쪽

※ 시험이 시작되기 전까지 표지를 넘기지 마시오.

제 2 교시

수학 영역

홀수형

5지선다형

1. $(2^{1-\sqrt{2}})^{1+\sqrt{2}}$ 의 값은? [2점]

- ① $\frac{1}{4}$ ② $\frac{1}{2}$ ③ 1 ④ 2 ⑤ 4

$$2^{1-2} = 2^{-1} = \frac{1}{2}$$

2. 함수 $f(x) = 3x^2 - x$ 에 대하여 $\lim_{h \rightarrow 0} \frac{f(1+2h) - f(1)}{h}$ 의 값은? [2점]

- ① 10 ② 11 ③ 12 ④ 13 ⑤ 14

$$\lim_{h \rightarrow 0} \frac{f(1+2h) - f(1)}{2h} \times 2 = f'(1) \times 2 = 10$$

$$f'(x) = 6x - 1$$

$$f'(1) = 5$$

3. 모든 항이 실수인 등비수열 $\{a_n\}$ 이

$$a_3 - a_1 = 2, \quad a_6 - a_4 = 16$$

일 때, a_5 의 값은? [3점]

- ① 10 ② $\frac{32}{3}$ ③ $\frac{34}{3}$ ④ 12 ⑤ $\frac{38}{3}$

$$ar^2 - a = 2, \quad ar^5 - ar^3 = 16$$

$$r^3(ar^2 - a) = 16$$

$$r^3 = 8 \quad \therefore r = 2$$

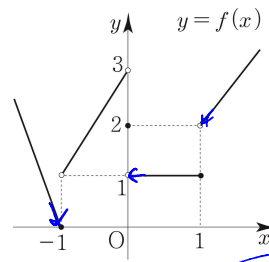
$$4a - a = 2$$

$$3a = 2$$

$$a = \frac{2}{3}$$

$$a_5 = ar^4 = \frac{2}{3} \times 16 = \frac{32}{3}$$

4. 함수 $y = f(x)$ 의 그래프가 그림과 같다.



$$(-1)^+ \rightarrow (0)^+ \rightarrow (1)$$

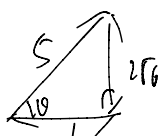
$\lim_{x \rightarrow -1^+} f(x) + \lim_{x \rightarrow -1^-} f(f(x))$ 의 값은? [3점]

- ① 1 ② 2 ③ 3 ④ 4 ⑤ 5

5. $\sin\theta < 0$ 이고 $\sin\left(-\frac{\pi}{2} + \theta\right) = \frac{1}{5}$ 일 때, $\tan\theta$ 의 값은? [3점]

- ① $-3\sqrt{6}$
- ② $-2\sqrt{6}$
- ③ 0
- ④ $2\sqrt{6}$
- ⑤ $3\sqrt{6}$

$-\sin\left(\frac{\pi}{2} - \theta\right) = \frac{1}{5}$
 $-\cos\theta = \frac{1}{5}$
 $\cos\theta = -\frac{1}{5}$



$\tan\theta < 0$
 $\cos\theta < 0$
 $\tan\theta = 2\sqrt{6}$

$\frac{+}{-} \frac{a}{c}$

6. 1이 아닌 세 양수 a, b, c 가 다음 조건을 만족시킨다.

- (가) \sqrt{a} 는 b 의 세제곱근이다. $\Rightarrow (\sqrt{a})^3 = b \Rightarrow a^{\frac{3}{2}} = b$
- (나) c 는 a^3 의 네제곱근이다. $\Rightarrow c^4 = a^3 \Rightarrow c = a^{\frac{3}{4}}$

$\log_{ab} ab$ 의 값은? [3점]

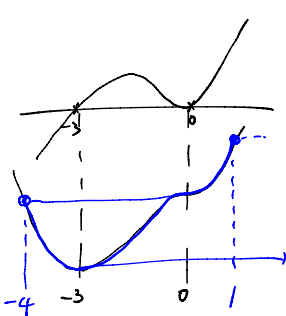
- ① $\frac{10}{9}$
- ② $\frac{5}{3}$
- ③ $\frac{20}{9}$
- ④ $\frac{25}{9}$
- ⑤ $\frac{10}{3}$

$\log_{a^{\frac{3}{2}} \times a^{\frac{3}{4}}} a^{\frac{5}{2}} = \log_{a^{\frac{9}{4}}} a^{\frac{5}{2}} = \frac{\frac{5}{2}}{\frac{9}{4}} = \frac{20}{18} = \frac{10}{9}$

7. 상수 $a (a > 0), b$ 에 대하여 $f(x) = ax^4 + 4ax^3 - b$ 가 닫힌구간 $[-4, 1]$ 에서 최댓값 2, 최솟값 -30 을 가질 때, $f(2)$ 의 값은? [3점]

- ① 41
- ② 42
- ③ 43
- ④ 44
- ⑤ 45

$f(x) = 4ax^3 + 12ax^2$
 $= 4ax^2(x+3)$



$5a - b = 2$
 $81a - 108a - b = -30$
 $-27a - b = -30$

$5a - b = 2$
$-27a - b = -30$
$32a = 32$
$a = 1$
$b = 3$

$f(1) = 1^4 + 4 \cdot 1^3 - 3 = 1 + 4 - 3 = 2$
 $f(1) = 16 + 32 - 3 = 48 - 3 = 45$

홀수형

수학 영역

8. 실수 전체의 집합에서 연속인 함수 $f(x)$ 의 도함수 $f'(x)$ 가

$$f'(x) = 2|x-1| + 3x^2$$

이고, $f(0) = 1$ 일 때, $f(-1) + f(2)$ 의 값은? [3점]

- ① 6 ② 7 ③ 8 ④ 9 ⑤ 10

$$f'(x) = \begin{cases} 2(x-1) + 3x^2 & (x \geq 1) \\ -2(x-1) + 3x^2 & (x < 1) \end{cases}$$

$$f(x) = \begin{cases} (x-2) + 3x^2 & (x \geq 1) \\ -2x + 2 + 3x^2 & (x < 1) \end{cases}$$

$$f(-1) = -1 - 2 + 3 = -3$$

$$f(2) = 8 + 4 - 4 + 3 = 11$$

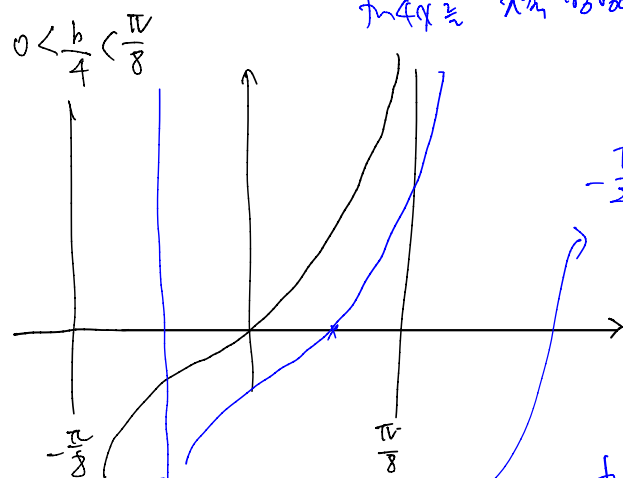
9. 함수 $f(x) = \tan(ax-b)$ ($a > 0, 0 < b < \frac{\pi}{2}$)가 다음 조건을 만족시킨다.

- (가) 함수 $f(x)$ 의 주기는 $\frac{\pi}{4}$ 이다. $\Rightarrow \frac{\pi}{a} = \frac{\pi}{4} \Rightarrow a = 4$
 (나) 함수 $y = f(x)$ 의 그래프와 직선 $x = k$ 가 만나지 않도록 하는 음의 실수 k 의 최댓값은 $-\frac{\pi}{24}$ 이다.

$f(\frac{\pi}{8})$ 의 값은? [4점]

- ① $-\sqrt{3}$ ② $-\frac{\sqrt{3}}{3}$ ③ 0 ④ $\frac{\sqrt{3}}{3}$ ⑤ $\sqrt{3}$

$$f(x) = \tan(4(x-b)) = \tan(4x - \frac{b}{4})$$



$$-\frac{\pi}{24} = -\frac{\pi}{8} + \frac{b}{4}$$

$$-\pi = -3\pi + bb$$

$$2\pi = bb$$

$$b = \frac{\pi}{3}$$

$$f(4x - \frac{\pi}{3}) \Rightarrow f(\frac{\pi}{8}) = \tan \frac{\pi}{6} = \frac{\sqrt{3}}{3}$$

10. 함수 $f(x) = x^3 - (a+1)x^2 + b$ 는 $x = a$ 에서 극솟값 1을 갖는다. 곡선 $y = f(x)$ 위의 점 $A(a, f(a))$ 에서의 접선이 점 A 가 아닌 점 B 에서 곡선과 만나고, 점 B 에서의 접선이 점 B 가 아닌 점 C 에서 곡선과 만날 때, 삼각형 ABC 의 넓이는? (단, a, b 는 상수이다.) [4점]

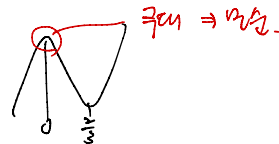
- ① 78 ② 81 ③ 84 ④ 87 ⑤ 90

$$f'(x) = 3x^2 - 2(a+1)x$$

$$f'(a) = 3a^2 - 2a^2 - 2a = 0 \Rightarrow a^2 - 2a = 0 \Rightarrow a = 0, a = 2$$

① $a = 0$

$$f'(x) = 3x^2 - 2x = x(3x-2)$$



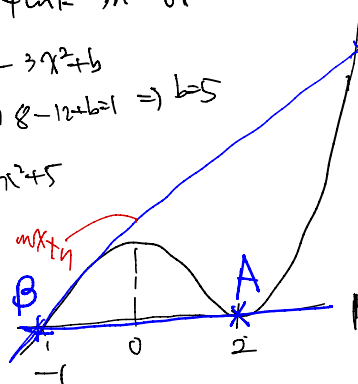
② $a = 2$

$$f'(x) = 3x^2 - 6x = 3x(x-2)$$

$$f(x) = x^3 - 3x^2 + b$$

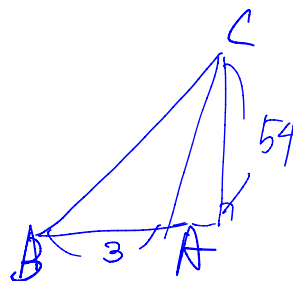
$$f(2) = 8 - 12 + b = 1 \Rightarrow b = 5$$

$$f(x) = x^3 - 3x^2 + 5$$



2차 미분의 관계 technique.

$$f(x) = mx + n \Rightarrow \text{시사하. } \text{점 } 3. \Rightarrow -1 - 1 + p = 3 \Rightarrow p = 5$$



$$\frac{1}{2} \times 3 \times 54 = 81$$

11. 두 점 P와 Q는 시각 $t=0$ 일 때 각각 점 A(2)와 점 B(k)에서 출발하여 수직선 위를 움직인다. 두 점 P, Q의 시각 $t(t \geq 0)$ 에서의 속도는 각각

$$v_1(t) = 3t^2 - 4, \quad v_2(t) = 8$$

이다. 두 점 P, Q가 동시에 출발한 후 $t=a(a > 0)$ 에서 한 번만 만나도록 하는 모든 실수 k 에 대하여 시각 $t=0$ 에서 $t=a$ 까지 점 P가 움직인 거리의 최솟값은? [4점]

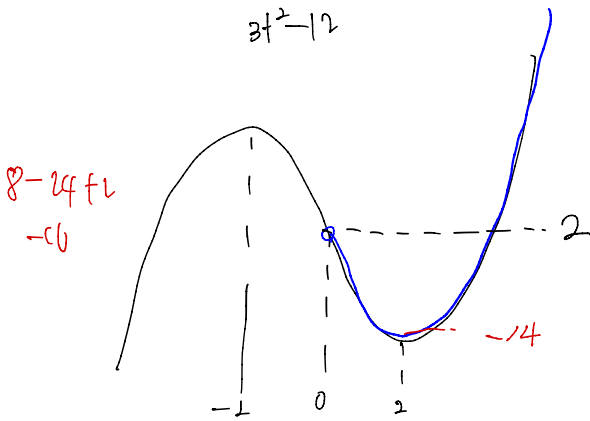
- ① $\frac{8\sqrt{3}}{3}$ ② $\frac{26\sqrt{3}}{9}$ ③ $\frac{28\sqrt{3}}{9}$
 ④ $\frac{10\sqrt{3}}{3}$ ⑤ $\frac{32\sqrt{3}}{9}$

$$x_1(t) = t^3 - 4t + 2, \quad x_2(t) = 8t + k$$

$$t^3 - 4t + 2 = 8t + k$$

$$t^3 - 12t + 2 = k$$

$$3t^2 - 12$$

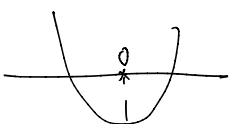


2점만족 K 범위. $k = -14, 2 \leq k$.

$\frac{a}{7}$. a의 최솟값은 2.

$$\int_0^2 |3t^2 - 4| dt = \int_0^{\frac{2}{3}} -3t^2 + 4 dt + \int_{\frac{2}{3}}^2 3t^2 - 4 dt$$

$$= \frac{32\sqrt{3}}{9}$$



12. 실수 a 에 대하여 정의역이 $\{x | x \geq 1\}$ 인

함수 $f(x) = \frac{1}{3}x^3 - ax^2 + 3ax$ 의 역함수가 존재할 때,

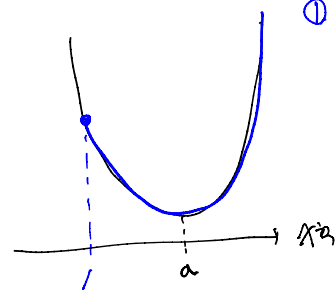
$f(2)$ 의 최댓값을 M , 최솟값을 m 이라 하자.

$M-m$ 의 값은? [4점]

- ① 6 ② 8 ③ 10 ④ 12 ⑤ 14

$$f'(x) = x^2 - 2ax + 3a$$

$$x = a$$



① $a > 1$

$$f'(a) \geq 0 \Rightarrow a^2 - 2a^2 + 3a \geq 0$$

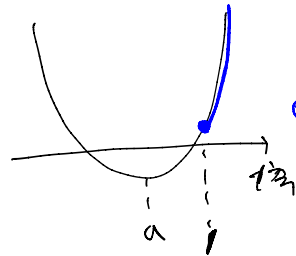
$$-a^2 + 3a \geq 0$$

$$a^2 - 3a \leq 0$$

$$a(a-3) \leq 0$$

$$0 \leq a \leq 3$$

$\therefore 1 \leq a \leq 3$



② $a > 1$

$$f'(1) \geq 0 \Rightarrow 1 - 2a + 3a \geq 0$$

$$1 + a \geq 0$$

$$a \geq -1$$

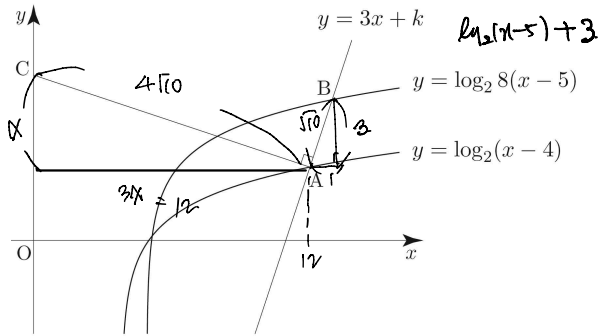
$\therefore -1 \leq a < 1$

$$-1 \leq a \leq 3$$

$$f(2) = \frac{8}{3} + 2a \Rightarrow -2 + \frac{8}{3} \leq f(2) \leq 6 + \frac{8}{3}$$

$$\therefore M - m = 8$$

13. 그림과 같이 직선 $y = 3x + k$ 가 두 함수 $y = \log_2(x-4)$, $y = \log_2 8(x-5)$ 의 그래프와 제1사분면에서 각각 한 점에서 만나며 그 두 점을 각각 A, B라 하자. 점 A를 지나고 직선 $y = 3x + k$ 에 수직인 직선이 y 축과 만나는 점을 C라 할 때, 삼각형 ABC의 넓이가 20이다. 상수 k 의 값은?
(단, $k < -21$) [4점]



- ① -30 ② -31 ③ -32 ④ -33 ⑤ -34

$9x^2 + 9^2 = 160$
 $x = 4$

A (12, 3)

$3b + k = 3$

$k = -33$

14. 정수 k 와 다음 조건을 만족시키는 모든 수열 $\{a_n\}$ 에 대하여 a_6 의 최댓값과 최솟값을 각각 M, m 이라 할 때, $M - m$ 의 값은? [4점]

(가) $a_3 = 7$
(나) $|k| \leq a_1$ 이고, 모든 자연수 n 에 대하여

$$a_{n+1} = \begin{cases} a_n - n & (a_n > n) \\ a_n + k & (a_n \leq n) \end{cases}$$

이다.

① 25 ② 26 ③ 27 ④ 28 ⑤ 29

$a_1 = 10$
 $a_2 = a_1 - 1 = 9$
 $a_3 = a_2 + k = 9 + k$
 $a_4 = a_3 - 3 = 6 + k$
 $a_5 = a_4 + k = 6 + 2k$
 $a_6 = a_5 - 5 = 1 + 2k$

$|k| \leq a_1 \Rightarrow -10 \leq k \leq 10$

$a_4 = 4, a_5 = 4 + k$

$a_6 = \begin{cases} a_5 - 5 & (a_5 > 5) \Rightarrow a_6 = k - 1 & (k > 1) \\ a_5 + k & (a_5 \leq 5) \Rightarrow a_6 = 4 + 2k & (k \leq 1) \end{cases}$

$\therefore M = 9, m = -16$

$9 + 16 = 25$

15. 최고차항의 계수가 1인 두 사차함수 $f(x), g(x)$ 가 다음 조건을 만족시킨다.

- (가) $\{|x| \mid f(x) = g(x), x \text{는 실수}\} = \{0, 1\}$
- (나) $\int_{-1}^1 f(x) dx = \int_{-1}^1 g(x) dx \Rightarrow \int_{-1}^1 f-g dx = 0$
- (다) $\int_0^2 f(x) dx = 1, \int_0^2 g(x) dx = -7$

$\int_{-3}^3 |f(x) - g(x)| dx$ 의 값은? [4점]

- ① 126 ② 128 ③ 130 ④ 132 ⑤ 134

$f(x) - g(x) = 0$

3차: $a(x^2(x-1))$ $\int_{-1}^1 x^2 - x^2 dx = \int_0^1 x^2 dx$

2차: $a(x^2(x+1))$ X

1차: $a(x+1)^2 x$ X

0차: $a(x-1)^2 x$ X

0차: $a(x(x-1)(x+1))$ 0

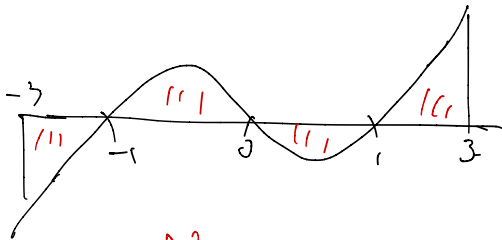
2차: $a(x(x+1))$ X

$\therefore f(x) - g(x) = a(x(x-1)(x+1)) = a(x(x^2-1)) = a(x^3-x)$

$\int_0^2 f-g dx = a \left[\frac{x^4}{4} - \frac{x^2}{2} \right]_0^2 = 8$

$a(4-2) = 8 \Rightarrow a = 4$

$f(x) - g(x) = 4(x^3-x)$



$2 \int_0^3 |f(x) - g(x)| dx$

$= 2 \left(\int_0^1 -4(x^3-x) dx + \int_1^3 4(x^3-x) dx \right)$

$= 130$

단답형

정수인 2개!

16. 부등식 $\log_{\frac{1}{3}}(x^2-2x-3) \geq \log_{\frac{1}{3}}(2x+2)$ 를 만족시키는 $x > -1$

모든 정수 x 의 개수를 구하시오. [3점]

$2x+2 > 0 \Rightarrow x > -1$

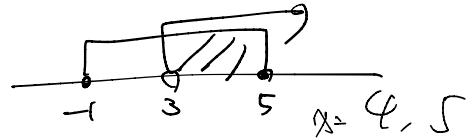
$x^2-2x-3 > 0$

$(x-3)(x+1) > 0$

$x^2-2x-3 \leq 2x+2$

$x^2-4x-5 \leq 0$

$(x-5)(x+1) \leq 0$



2

17. 함수 $f(x) = (x^3+2x-1)(x^2+ax)$ 에 대하여

$f'(-1) = -32$ 일 때, 상수 a 의 값을 구하시오. [3점]

5

$f'(x) = (3x^2+2)(x^2+ax) + (x^3+2x-1)(2x+a)$

$f'(-1) = 5(1-a) + (-1-2-1)(-2+a)$

$= 5-5a-4(-2+a)$

$= 5-5a+8-4a = 13-9a = -32$

$45 = 9a$

$a = 5$

18. 수열 $\{a_n\}$ 에 대하여

$$\sum_{n=1}^{10} (a_n + 1)^2 = 100, \quad \sum_{n=1}^{10} a_n(a_n + 1) = 60$$

$$\sum a_n^2 + 2\sum a_n + 10 = 100 \quad \therefore \sum a_n^2 + \sum a_n = 60$$

일 때, $\sum_{n=1}^{10} (a_n - 1)(a_n + 5)$ 의 값을 구하시오. [3점]

(100)

$$\sum a_n^2 = A \quad \sum a_n = B$$

$$A + 2B = 100$$

$$\underline{A + B = 60}$$

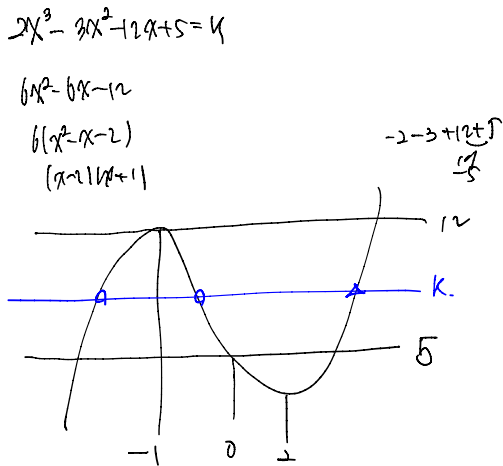
$$B = 40, \quad A = 60$$

$$\sum (a_n^2 + 4a_n - 5) \Rightarrow A + 4B - 50$$

$$60 + 160 - 50 = 170$$

(170)

19. 방정식 $2x^3 - 12x + 5 = 3x^2 + k$ 가 한 개의 양의 실근과 서로 다른 두 개의 음의 실근을 갖도록 하는 모든 정수 k 의 값의 합을 구하시오. [3점]



51

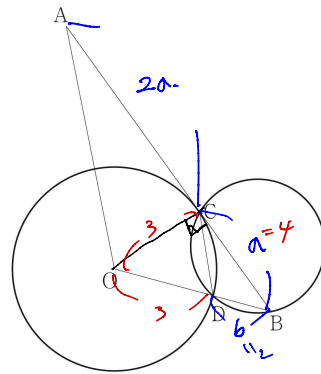
$$k = 6, 7, 8, 9, 10, 11$$

$$(6, 7) \quad (8, 9) \quad (10, 11)$$

(51)

20. 그림과 같이 중심이 O이고 반지름의 길이가 3인 원이

삼각형 OAB의 변 AB에 접한다. 이때의 접점을 C라 할 때, $\overline{AC} = 2\overline{BC}$ 이다. 원과 선분 OB가 만나는 점을 D라 하자. 삼각형 OAB의 넓이를 S_1 , 삼각형 BCD의 넓이를 S_2 라 할 때, $2S_1 = 15S_2$ 이다.



다음은 삼각형 BCD의 외접원의 넓이를 구하는 과정이다.

$$\overline{AC} = 2\overline{BC} \text{ 이므로 } \overline{AB} = \overline{AC} + \overline{BC} = 3\overline{BC} \text{ 이고,}$$

$$\overline{OB} = \overline{OD} + \overline{BD} = 3 + \overline{BD} \text{ 이다.}$$

$\angle DBC = \theta$ 라 하면

$$S_1 = \frac{1}{2} \times 3\overline{BC} \times (3 + \overline{BD}) \times \sin\theta$$

$$S_2 = \frac{1}{2} \times \overline{BC} \times \overline{BD} \times \sin\theta$$

3a (3+b)

a b

$$6a(3+b) = 15ab \Rightarrow 2(3+b) = 5b \Rightarrow b = 26/3$$

이므로, $2S_1 = 15S_2$ 이므로 $\overline{BD} = \frac{26}{3}$ 이다.

4/5

$$\angle BCO = \frac{\pi}{2} \text{ 이므로 } \cos\theta = \frac{\overline{BC}}{\overline{BO}} \text{ 이고, } \frac{4}{5}$$

삼각형 BCD에서 코사인법칙에 의하여

$$\cos\theta = \frac{\overline{BD}^2 + \overline{BC}^2 - \overline{CD}^2}{2 \times \overline{BD} \times \overline{BC}}$$

$$\frac{4}{5} = \frac{4 + b^2 - \overline{CD}^2}{2 \times 2 \times 4}$$

$$\frac{64}{5} = 20 - \overline{CD}^2 \Rightarrow \overline{CD}^2 = \frac{36}{5}$$

이다. 삼각형 BCD에서 사인법칙에 의하여

삼각형 BCD의 외접원의 넓이는 $\frac{1}{2} \times \overline{BC} \times \overline{BD} \times \frac{1}{\sin\theta}$ 이다.

위의 (가), (나), (다)에 알맞은 수를 각각 p, q, r 이라 할 때,

$p \times q \times \frac{r}{\pi}$ 의 값을 구하시오. [4점]

$$\frac{\overline{BC}}{\sin\theta} = \frac{6}{\frac{4}{5}} = 2R \Rightarrow \frac{30}{\frac{4}{5}} = 2R \Rightarrow R = \frac{15}{2}$$

$$2 \times \frac{36}{5} \times \frac{5\pi}{\pi} = 72$$

21. 공차가 0이 아닌 등차수열 $\{a_n\}$ 에 대하여 $b_n = a_n + a_3$ 이라 하고, 수열 $\{b_n\}$ 의 첫째항부터 제 n 항까지의 합을 S_n 이라 하자. S_n 이 다음 조건을 만족시킨다.

(가) $S_2 = S_3 \Rightarrow a_1 + a_2 + 2a_3 = a_1 + a_2 + 4a_3 \Rightarrow a_3 = 0$.
 (나) $S_4 = 4$

$\sum_{n=4}^{17} \frac{60}{b_n a_{n+1}}$ 의 값을 구하시오. [4점]

14

$b_1 = a_1 + a_3 = a_1 = -2d$
 $b_2 = a_2 + a_3 = a_2 = -d$
 $b_3 = a_3 + a_3 = a_3 = 0$
 $b_4 = a_4 + a_3 = a_4 = d$

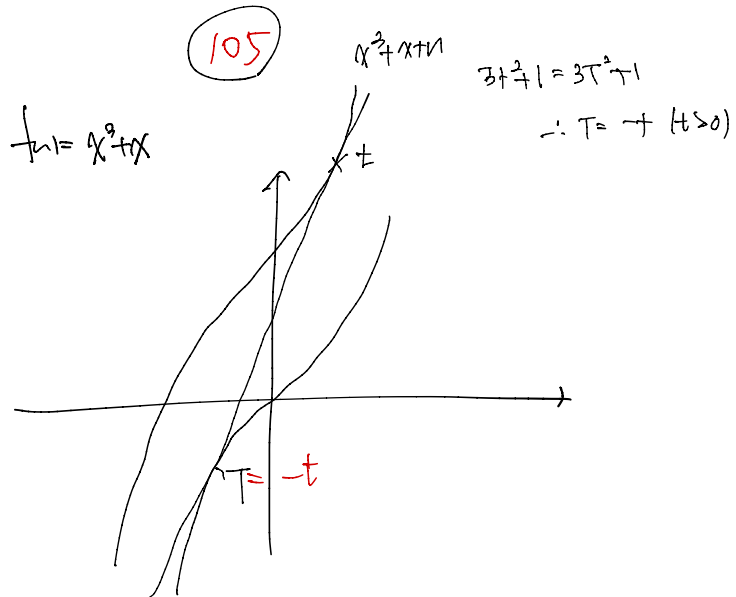
$-3d + d = -2d = 4 \Rightarrow d = -2$

$a_n = -2n + b = b_n$

$\sum_{n=4}^{17} \frac{60}{(-2n+b)(-2n+4)} = -2(n-3) \times -2(n-2)$

$\sum_{n=4}^{17} \frac{15}{(n-3)(n-2)} = 15 \left(\frac{1}{n-3} - \frac{1}{n-2} \right)$
 $15 \left(1 - \frac{1}{15} \right) = 14$

22. 함수 $f(x) = x^3 + x$ 와 자연수 n 에 대하여 두 함수 $y = f(x)$, $y = f(x) + n$ 의 그래프와 모두 접하는 직선 $y = g(x)$ 가 있다. 모든 실수 x 에 대하여 $4 \leq g'(x) \leq 28$ 이 되도록 하는 모든 n 의 개수를 구하시오. [4점]



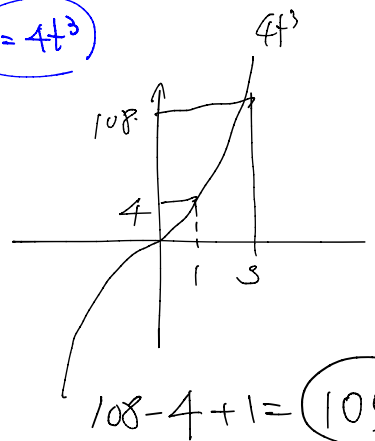
$y = (3t^2 + 1)(x - t) + t^3 + t + n$

$y = (3t^2 + 1)(x + t) - t^3 - t$

$-2t^3 + n = 2t^3$

$n = 4t^3$

$4 \leq g'(x) \leq 28$
 $4 \leq 3t^2 + 1 \leq 28$
 $3 \leq 3t^2 \leq 27$
 $1 \leq t \leq 3 \quad (t > 0)$



$108 - 4 + 1 = 105$

* 확인 사항
 ○ 답안지의 해당란에 필요한 내용을 정확히 기입(표기)했는지 확인하시오.
 ○ 이어서, 「선택과목(확률과 통계)」 문제가 제시되오니, 자신이 선택한 과목인지 확인하시오.

제 2 교시

수학 영역(미적분)

홀수형

5지선다형

23. $\lim_{x \rightarrow 0} \frac{\ln(1+2x)}{e^{4x}-1}$ 의 값은? [2점]

- ① $\frac{1}{2}$
 ② $\frac{3}{2}$
 ③ $\frac{5}{2}$
 ④ $\frac{7}{2}$
 ⑤ $\frac{9}{2}$

$$\lim_{x \rightarrow 0} \frac{\ln(1+2x)}{e^{4x}-1} \times \frac{4x}{e^{4x}-1} \times \frac{1}{2}$$

| X | X | $\frac{1}{2} = \frac{1}{2}$

24. 매개변수 $t (t > 0)$ 로 나타내어진 곡선

$$x = t + \ln \sqrt{t}, \quad y = t\sqrt{t} \quad t^{\frac{1}{2}}$$

에서 $t=1$ 일 때, $\frac{dy}{dx}$ 의 값은? [3점]

- ① $\frac{1}{2}$
 ② 1
 ③ $\frac{3}{2}$
 ④ 2
 ⑤ $\frac{5}{2}$

$$x = t + \frac{1}{2} \ln t, \quad y = t^{\frac{3}{2}}$$

$$\frac{dx}{dt} = 1 + \frac{1}{2t} \quad \frac{dy}{dt} = \frac{3}{2} t^{\frac{1}{2}}$$

$$\frac{\frac{3}{2}}{1 + \frac{1}{2}} = 1$$

25. $\lim_{n \rightarrow \infty} \sum_{k=1}^n \frac{2k}{(k-3n)^2}$ 의 값은? [3점]

- ① $\frac{1}{2} - 2\ln \frac{2}{3}$
- ② $\frac{1}{2} + 2\ln \frac{2}{3}$
- ③ $1 + 2\ln \frac{2}{3}$ ✓
- ④ $1 + 2\ln 2$
- ⑤ $2 + 2\ln 3$

$$\frac{\frac{2k}{n}}{(-3 + \frac{k}{n})^2} \cdot \frac{1}{n}$$

$$\int_0^1 \frac{2x}{(x-3)^2} dx$$

$x-3=t \Rightarrow dt = dx$

$$\int_{-3}^{-2} \frac{2(t+3)}{t^2} dt = \int_{-3}^{-2} \left(\frac{2}{t} + \frac{6}{t^2} \right) dt$$

$$= \left[2\ln|t| - \frac{6}{t} \right]_{-3}^{-2}$$

$$= 2\ln 2 + 3 - (2\ln 3 + 2)$$

$$= 2\ln \frac{2}{3} + 1$$

26. 실수 전체의 집합에서 미분가능하고 역함수가 존재하는 함수 $f(x)$ 가 다음 조건을 만족시킨다.

(가) $\lim_{x \rightarrow 0} \frac{f(x)-1}{x} = 2 \Rightarrow f(0)=1, f'(0)=2$

(나) $\lim_{x \rightarrow 1} \frac{f(x)-2}{x^2-1} = 3 \Rightarrow f(1)=2, f'(1)=6$

함수 $f(x)$ 의 역함수를 $g(x)$ 라 할 때, $\lim_{x \rightarrow 2} \frac{g(g(x))}{x-2}$ 의 값은?

- $g'(2) \cdot g'(g(2))$ [3점]
- ① $\frac{1}{4}$
 - ② $\frac{1}{6}$
 - ③ $\frac{1}{8}$
 - ④ $\frac{1}{10}$
 - ⑤ $\frac{1}{12}$ ✓

$g'(2) \cdot g'(1)$

$f(g(2)) = 2$

$g'(2) = \frac{1}{f'(g(2))}$

$\therefore \frac{1}{f'(1)} \cdot \frac{1}{f'(2)} = \frac{1}{12}$

$g'(2) = \frac{1}{f'(g(2))} = \frac{1}{f'(1)}$

$g'(1) = \frac{1}{f'(g(1))} = \frac{1}{f'(2)}$

27. 양의 실수 t 에 대하여 곡선 $y = (2\ln x)^2$ 와 직선 $y = t$ 가 만나는 두 점의 x 좌표를 각각 x_1, x_2 라 할 때, 함수 $f(t)$ 를 $f(t) = |x_1 - x_2|$ 라 하자. 미분가능한 함수 $f(t)$ 에 대하여 양수 a 가 $f(a) = \frac{e^2 - 1}{e}$ 을 만족시킨다. $f'(a)$ 의 값은? [3점]

- ① $\frac{1}{8}(e + \frac{1}{e})$ ② $\frac{1}{6}(e + \frac{1}{e})$ ③ $\frac{1}{4}(e + \frac{1}{e})$
 ④ $\frac{1}{2}(e + \frac{1}{e})$ ⑤ $e + \frac{1}{e}$

$y = (2\ln x)^2 = 4(\ln x)^2$ ($x > 0$)
 $y' = \frac{4 \ln x}{x}$ ($x > 0$)

$4(\ln x)^2 = t$
 $(\ln x)^2 = \frac{t}{4}$
 $\ln x = \pm \frac{\sqrt{t}}{2}$
 $x = e^{\pm \frac{\sqrt{t}}{2}}, e^{\pm \frac{\sqrt{t}}{2}}$
 $f(t) = e^{\frac{\sqrt{t}}{2}} - e^{-\frac{\sqrt{t}}{2}} \Rightarrow f(a) = e - \frac{1}{e}$
 $a = 4$
 $f'(t) = \frac{1}{4\sqrt{t}} e^{\frac{\sqrt{t}}{2}} + \frac{1}{4\sqrt{t}} e^{-\frac{\sqrt{t}}{2}}$
 $f'(4) = \frac{1}{8}(e + \frac{1}{e})$

28. 자연수 a 에 대하여 함수 $f(x)$ 를

$$f(x) = \lim_{n \rightarrow \infty} \frac{3|x-a|^{n+1} + 1}{|x-a|^{n+1} + 1}$$

라 하자. $\sum_{k=11}^{15} f(k) \leq 12$ 가 되도록 하는 모든 a 의 값의 합은? [4점]

- ① 63 ② 64 ③ 65 ④ 66 ⑤ 67

$|x-a| > 1 \Rightarrow f(x) = 3$
 $|x-a| < 1 \Rightarrow f(x) = 1$ $-1 < x-a < 1 \Rightarrow a-1 < x < a+1$
 $|x-a| = 1 \Rightarrow f(x) = 2$

$$f(11) + f(12) + f(13) + f(14) + f(15) \leq 12$$

$a=11$	1	2	3	3	3
$a=12$	2	1	2	3	3
$a=13$	3	2	1	2	3
$a=14$	3	3	2	1	2
$a=15$	3	3	3	2	1

$23 + 27 + 15 = 50$
65

단답형

29. $0 < x < 2\pi$ 에서 정의된 함수 $f(x) = \frac{\sin x}{e^{3x}}$ 는 $x=a$ 에서 극댓값을 갖고, $x=b$ 에서 극솟값을 갖는다.
 $-30 \times \cos(a+b)$ 의 값을 구하시오. (단, a, b 는 상수이다.)

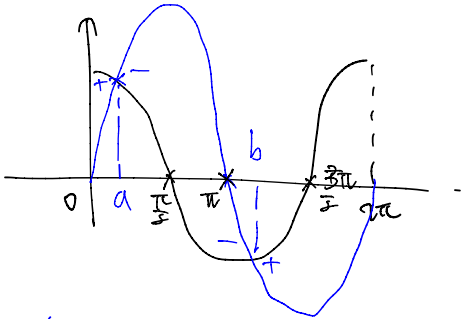
[4점]

24

$$f(x) = \sin x \cdot e^{-3x}$$

$$f'(x) = \cos x \cdot e^{-3x} - 3 \sin x \cdot e^{-3x}$$

$$= (\cos x - 3 \sin x) e^{-3x}$$

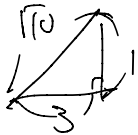


$\cos a = 3 \sin a$

$\frac{1}{3} = \tan a, \frac{1}{3} = \tan b$

$\cos a = \frac{3}{\sqrt{10}}, \cos b = -\frac{3}{\sqrt{10}}$

$\sin a = \frac{1}{\sqrt{10}}, \sin b = -\frac{1}{\sqrt{10}}$



$-30 \cos(a+b) = -30 (\cos a \cos b - \sin a \sin b)$

$= -30 \left(-\frac{9}{10} + \frac{1}{10} \right)$

$= -30 \times -\frac{8}{10}$

$= 24$

30. 실수 전체의 집합에서 연속인 함수 $f(x)$ 에 대하여

함수 $F(x) = \int_0^x f(t) dt$ 는 $F(0)=0, F'(x)=f(x)$

$\int_0^2 \{f(x)\}^2 dx + \int_0^2 F(x)f'(x) dx = 12$

을 만족시킨다. $\int_0^2 x f'(x) dx = 5$ 일 때,

$\int_0^2 \{F(x)\}^2 f(x) dx$ 의 값을 구하시오. (단, $F(2) > 0$) [4점]

9

$\int_0^2 \tan^2 u du + \int_0^2 F u f'(u) du = 12$

$\int_0^2 F u f'(u) du$

$\int_0^2 F u f'(u) + F u f'(u) du = 12$

$\int_0^2 (F u f'(u))' du = 12$

$[F u f'(u)]_0^2 = 12$

$F(2) f'(2) - F(0) f'(0) = 12$

$F(2) f(2) = 12$

$\int_0^2 x f(x) dx = [x f(x)]_0^2 - \int_0^2 f(x) dx$
 $= 2 f(2) - F(2) = 5$

$f(2) = a, F(2) = b$

$ab = 12 \Rightarrow a = \frac{12}{b}$

$2a - b = 5 \Rightarrow \frac{24}{b} - b = 5$

$24 - b^2 = 5b$

$b^2 + 5b - 24 = 0$

$(b+8)(b-3) = 0$

$\therefore b = 3 (F(2) > 0)$

$F(2) = 4$

$\int_0^2 (F u f'(u))' du = \left[\frac{1}{3} (F u f'(u))^3 \right]_0^2$

$= \frac{1}{3} \times 27 = 9$

* 확인 사항

○ 답안지의 해당란에 필요한 내용을 정확히 기입(표기)했는지 확인하시오.

○ 이어서, 「선택과목(기하)」 문제가 제시되오니, 자신이 선택한 과목인지 확인하시오.

※시험이 시작되기 전까지 표지를 넘기지 마시오.