

1.번

좌표평면에서 x, y 에 대한 연립부등식

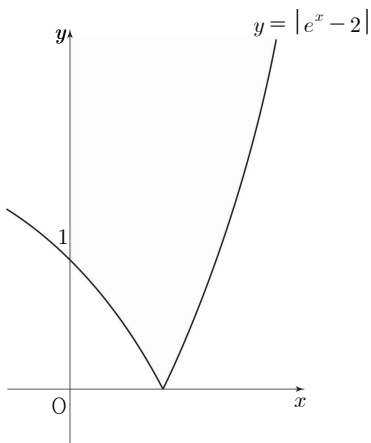
$$\begin{cases} x \geq 0 \\ y \geq |e^x - 2| \end{cases}$$

가 나타내는 영역을 D 라 하자. 양의 실수 t 에 대하여 영역 D 의 서로 다른 네 점을 꼭짓점으로 하는 정사각형 A 가 다음 조건을 만족시킨다.

- (가) 정사각형 A 의 한 변의 길이는 t 이다.
- (나) 정사각형 A 의 한 변은 x 축과 평행하다.

정사각형 A 의 두 대각선의 교점의 y 좌표의 최솟값을 $f(t)$ 라 할 때, $f'(\ln 2) + f'(\ln 5) = \frac{q}{p}$ 이다. $p+q$ 의 값을 구하시오.

(단, p, q 는 서로소인 자연수이다.)



3.번

$0 \leq \theta \leq \frac{\pi}{2}$ 인 θ 에 대하여 좌표평면 위의 두 직선 l, m 은 다음 조건을 만족시킨다.

(가) 두 직선 l, m 은 서로 평행하고 x 축의 양의 방향과 이루는 각의 크기는 각각 θ 이다.

(나) 두 직선 l, m 은 곡선 $y = \sqrt{2-x^2} (-1 \leq x \leq 1)$ 과 각각 만난다.

두 직선 l 과 m 사이의 거리의 최댓값을 $f(\theta)$ 라 할 때,

$$\int_0^{\frac{\pi}{2}} f(\theta) d\theta = a + b\sqrt{2}\pi \text{이다. } 20(a+b) \text{의 값을 구하시오.}$$

(단, a 와 b 는 유리수이다.)

1. 정답 71 교육청 기출

$g(x) = |e^x - 2|$ 라 하자.

함수 $y = g(x)$ 의 그래프와 직선 $y = 1$ 의

교점의 좌표는 $(0, 1), (\ln 3, 1)$

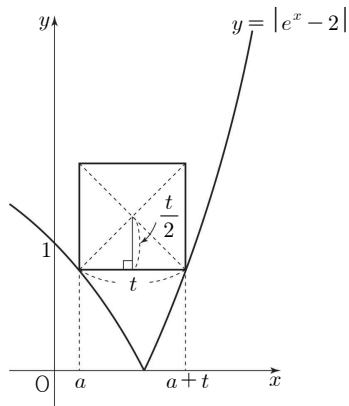
$f(t)$ 는 한 변의 길이가 t 인 정사각형의 꼭짓점이

$g(x)$ 의 그래프와 만날 때 정해진다.

$0 < t \leq \ln 3$ 이면 두 점에서 만나고

$t > \ln 3$ 이면 한 점에서 만날 때이다.

i) $0 < t \leq \ln 3$ 일 때



정사각형과 $y = g(x)$ 의 두 교점의 x 좌표를 a 와

$a+t$ 라 하면 두 교점의 좌표는

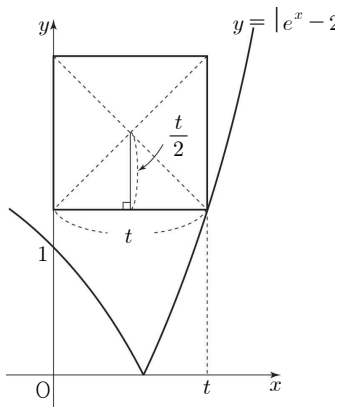
$(a, 2 - e^a), (a+t, e^{a+t} - 2)$

두 교점의 y 좌표가 같으므로 $e^a = \frac{4}{e^t + 1}$ 이고,

$$f(t) = 2 - e^a + \frac{t}{2}$$

$$f(t) = 2 - \frac{4}{e^t + 1} + \frac{t}{2}$$

ii) $t > \ln 3$ 일 때



정사각형과 $y = g(x)$ 의 교점의 좌표는 $(t, e^t - 2)$

$$\therefore f(t) = e^t - 2 + \frac{t}{2}$$

그러므로 함수 $f(t)$ 는

$$f(t) = \begin{cases} 2 - \frac{4}{e^t + 1} + \frac{t}{2} & (0 < t \leq \ln 3) \\ e^t - 2 + \frac{t}{2} & (t > \ln 3) \end{cases}$$

함수 $f(t)$ 의 도함수 $f'(t)$ 는

$$f'(t) = \begin{cases} \frac{4e^t}{(e^t + 1)^2} + \frac{1}{2} & (0 < t < \ln 3) \\ e^t + \frac{1}{2} & (t > \ln 3) \end{cases}$$

$$f'(\ln 2) + f'(\ln 5) = \frac{25}{18} + \frac{11}{2} = \frac{62}{9}$$

따라서 $p = 9, q = 62$ 이고 $p + q = 71$

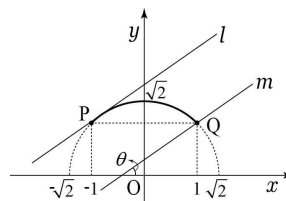
2. 답 25 교육청 기출

곡선 $y = \sqrt{2-x^2} (-1 \leq x \leq 1)$ 위의 양 끝점

$(-1, 1), (1, 1)$ 을 각각 P, Q 라 하고, 직선 l 의 y 절편이 직선 m 의 y 절편보다 크다고 하자.

점 P 를 지나고 곡선 $y = \sqrt{2-x^2}$ 에 접하는 접선이 x 축과 양의 방향으로 이루는 각의 크기가 $\frac{\pi}{4}$ 이므로

(i) $0 \leq \theta < \frac{\pi}{4}$ 일 때



$f(\theta)$ 는 직선 l 이 곡선과 접하고, 직선 m 이 점 Q를 지날 때 점 Q와 직선 l 사이의 거리이다.

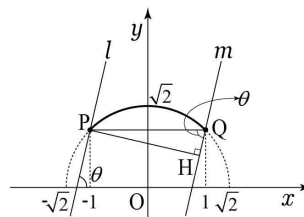
곡선은 중심이 $(0, 0)$ 이고 반지름의 길이가 $\sqrt{2}$ 인 원의 일부이므로 곡선과 접하는 직선 l 의 방정식은

$y = \tan \theta x + \sqrt{2} \sec \theta$ 이므로

$$f(\theta) = \frac{|\tan \theta - 1 + \sqrt{2} \sec \theta|}{\sqrt{\tan^2 \theta + 1}}$$

$$= \sin \theta - \cos \theta + \sqrt{2} \quad (\sin \theta - \cos \theta \geq -1)$$

(ii) $\frac{\pi}{4} \leq \theta \leq \frac{\pi}{2}$ 일 때



$f(\theta)$ 는 직선 l 이 점 P를 지나고 직선 m 이 점 Q를 지날 때 점 P와 직선 m 사이의 거리와 같다. 즉, 점 P에서 직선 m 에 내린 수선의 발을 H라 하면 $f(\theta)$ 는 선분 PH의 길이와 같다.

$\angle PQH = \theta$ 이므로

$$f(\theta) = 2 \sin \theta$$

(i), (ii)에 의하여

$$f(\theta) = \begin{cases} \sin \theta - \cos \theta + \sqrt{2} & (0 \leq \theta < \frac{\pi}{4}) \\ 2 \sin \theta & (\frac{\pi}{4} \leq \theta \leq \frac{\pi}{2}) \end{cases}$$

함수 $f(\theta)$ 는 닫힌 구간 $[0, \frac{\pi}{2}]$ 에서 연속이므로

$$\int_0^{\frac{\pi}{2}} f(\theta) d\theta$$

$$= \int_0^{\frac{\pi}{4}} (\sin \theta - \cos \theta + \sqrt{2}) d\theta + \int_{\frac{\pi}{4}}^{\frac{\pi}{2}} 2 \sin \theta d\theta$$

$$= [-\cos \theta - \sin \theta + \sqrt{2}\theta]_0^{\frac{\pi}{4}} + [-2\cos \theta]_{\frac{\pi}{4}}^{\frac{\pi}{2}}$$

$$= 1 + \frac{\sqrt{2}}{4}\pi$$

$$a = 1, b = \frac{1}{4}$$

따라서 $20(a+b) = 25$